

Problemas de Matemáticas



Nombre:..... Fecha:.....

Un panadero horneó 75 panes por la mañana. Durante el día vendió 58 panes. ¿Cuántos panes le quedaron al final del día?

Datos

Dibujo

Cálculo





Solución:.....

En un autobús escolar viajan 42 niños. En la primera parada, se bajan 15 niños. ¿Cuántos niños quedan en el autobús después de la primera parada?

Datos

Dibujo

Cálculo



Solución:.....



Problemas de Matemáticas:

María tenía ahorrados 93 euros. Se compró un libro que costó 27 euros. ¿Cuánto dinero le queda a María después de comprar el libro?

Datos

Dibujo

Cálculo





Solución:.....

Un granjero recogió 61 huevos de sus gallinas. Utilizó 34 huevos para hacer una tortilla gigante. ¿Cuántos huevos le quedaron al granjero?

Datos

Dibujo

Cálculo



Solución:.....