

Problemas de Matemáticas


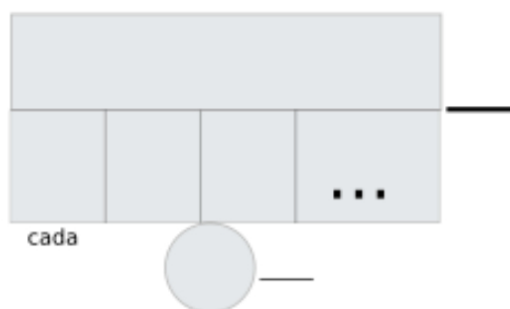
Nombre:..... Fecha:.....

Un jardinero tiene espacio para plantar un máximo de 9 filas de flores en su huerto. Si quiere plantar un total de 72 flores y cada fila debe tener la misma cantidad, ¿cuántas flores debe plantar en cada fila?

Datos

Dibujo

Cálculo




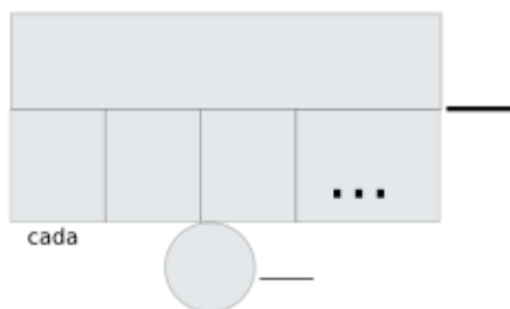
Solución:.....

Un panadero puede hacer hasta 9 tipos diferentes de panes. Si con esos tipos de panes puede ofrecer un total de 63 combinaciones diferentes de sandwiches (usando un pan diferente arriba y abajo), ¿cuántos tipos diferentes de rellenos puede ofrecer el panadero para sus sandwiches?

Datos

Dibujo

Cálculo



Solución:.....

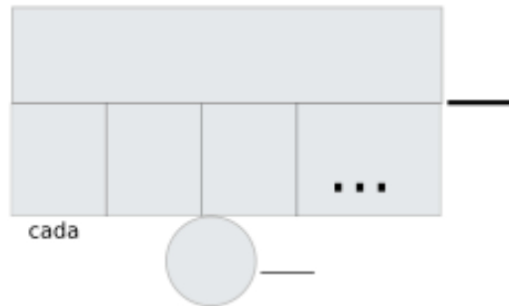
Problemas de Matemáticas:

Un coleccionista de estampillas tiene 100 estampillas diferentes. Si puede formar 500 grupos distintos de estampillas (usando una cantidad constante de estampillas en cada grupo), ¿cuántas estampillas hay en cada grupo?

Datos

Dibujo

Cálculo



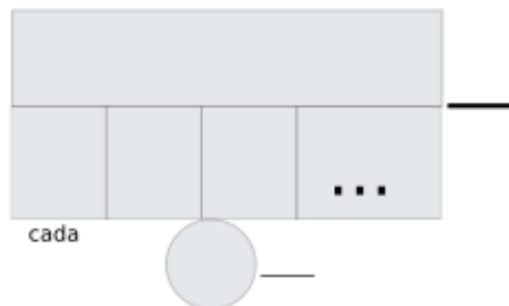
Solución:.....

Una fábrica produce un total de 1000 tornillos al día. Si tienen 100 máquinas funcionando para producir estos tornillos, y cada máquina produce la misma cantidad de tornillos, ¿cuántos tornillos produce cada máquina al día?

Datos

Dibujo

Cálculo



Solución:.....