

Problemas de Matemáticas

Nombre: Fecha:

Un coche de juguete cuesta 15 euros. Un camión de juguete cuesta 7 euros más que el coche. ¿Cuánto cuesta el camión de juguete?

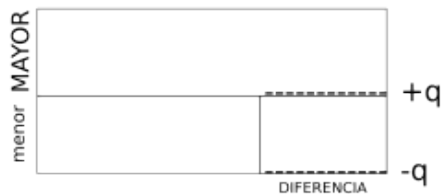
Datos

.....

.....

.....

Dibujo



Cálculo

Solución:

Una muñeca cuesta 23 euros. Un peluche cuesta 9 euros más que la muñeca. ¿Cuánto cuesta el peluche?

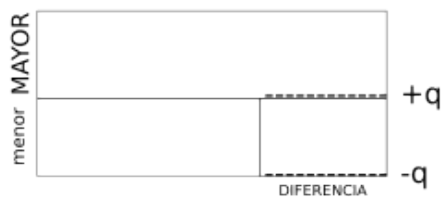
Datos

.....

.....

.....

Dibujo



Cálculo

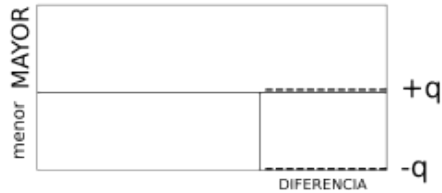
Solución:

Problemas de Matemáticas:

Un puzzle cuesta 18 euros. Un juego de mesa cuesta 12 euros más que el puzzle. ¿Cuánto cuesta el juego de mesa?

Datos

Dibujo



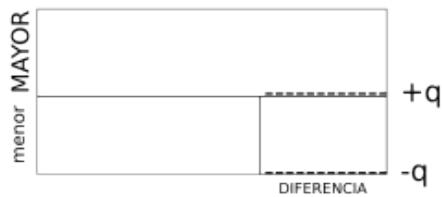
Cálculo

Solución:.....

Un robot de juguete cuesta 35 euros. Un tren eléctrico cuesta 16 euros más que el robot. ¿Cuánto cuesta el tren eléctrico?

Datos

Dibujo



Cálculo

Solución:.....