

Problemas de Matemáticas

Nombre:..... Fecha:.....

Pedro anotó 57 puntos en un videojuego. Se sabe que Pedro anotó 18 puntos más que Lucía. ¿Cuántos puntos anotó Lucía?

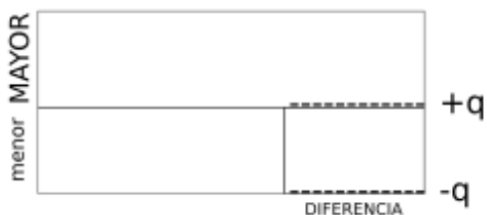
Datos

.....

.....

.....

Dibujo



Cálculo

Solución:.....

En un juego de mesa, Sofía recolectó 83 monedas de oro. Ella recolectó 25 monedas de oro más que Martín. ¿Cuántas monedas de oro recolectó Martín?

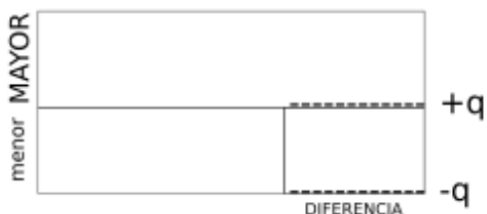
Datos

.....

.....

.....

Dibujo



Cálculo

Solución:.....

Problemas de Matemáticas:

Un equipo de baloncesto anotó 91 puntos en un partido. El equipo anotó 15 puntos más que su oponente. ¿Cuántos puntos anotó el equipo oponente?

Datos

<input type="text"/>	-----
<input type="text"/>	-----
<input type="text" value="?"/>	-----

Dibujo



Cálculo

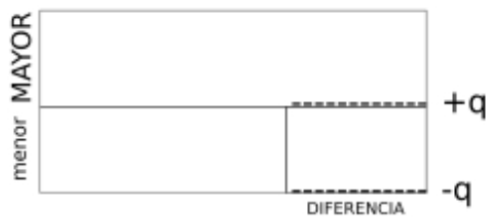
Solución:.....

Ana completó un rompecabezas en 48 minutos. Ana tardó 9 minutos más que Diego en completar el mismo rompecabezas. ¿Cuánto tiempo tardó Diego en completar el rompecabezas?

Datos

<input type="text"/>	-----
<input type="text"/>	-----
<input type="text" value="?"/>	-----

Dibujo



Cálculo

Solución:.....