

# Problemas de Matemáticas


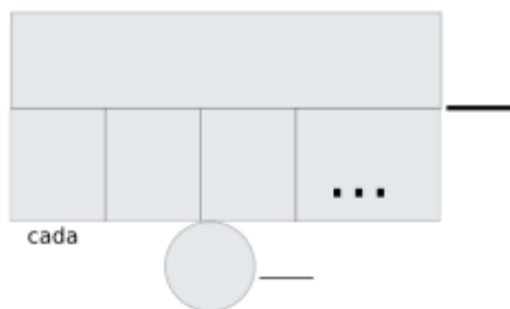
Nombre:..... Fecha:.....

María tiene 25 cromos de animales. Su amigo Pablo tiene tres veces más cromos que ella. ¿Cuántos cromos tiene Pablo?

Datos

Dibujo

Cálculo




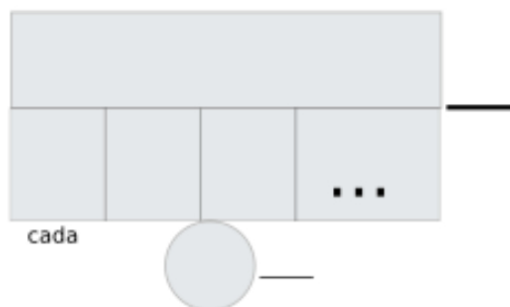
Solución:.....

Un pastelero horneó 32 magdalenas. Al día siguiente, horneó dos veces más magdalenas que el día anterior. ¿Cuántas magdalenas horneó en el segundo día?

Datos

Dibujo

Cálculo



Solución:.....

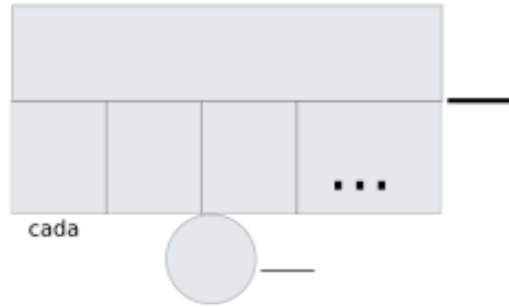
# Problemas de Matemáticas:

En la granja de Juan hay 45 gallinas. En la granja de su vecino Pedro hay cuatro veces más gallinas que en la de Juan. ¿Cuántas gallinas hay en la granja de Pedro?

Datos

Dibujo

Cálculo



|  |  |  |  |  |  |  |
|--|--|--|--|--|--|--|
|  |  |  |  |  |  |  |
|  |  |  |  |  |  |  |
|  |  |  |  |  |  |  |
|  |  |  |  |  |  |  |
|  |  |  |  |  |  |  |

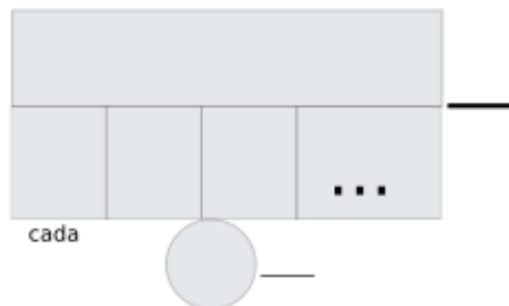
Solución:.....

Un camión transporta 18 cajas de manzanas. Un tren transporta ocho veces más cajas de manzanas que el camión. ¿Cuántas cajas de manzanas transporta el tren?

Datos

Dibujo

Cálculo



|  |  |  |  |  |  |  |
|--|--|--|--|--|--|--|
|  |  |  |  |  |  |  |
|  |  |  |  |  |  |  |
|  |  |  |  |  |  |  |
|  |  |  |  |  |  |  |
|  |  |  |  |  |  |  |

Solución:.....