

Problemas de Matemáticas

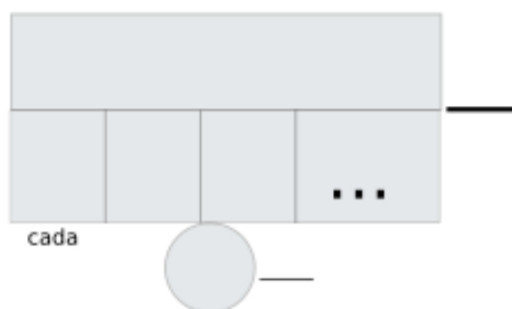
Nombre:..... Fecha:.....

En el obrador de turrolate de Priego, hoy han producido 72 tabletas, que son 8 veces más que las que produjeron ayer debido a una avería. ¿Cuántas tabletas produjeron ayer?

Datos

Dibujo

Cálculo



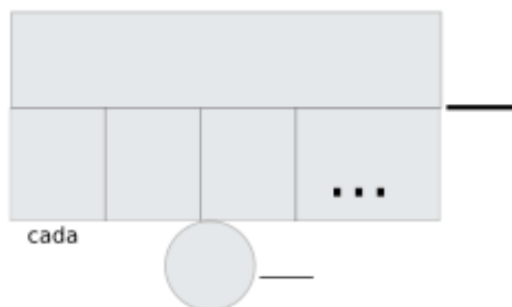
Solución:.....

Un turista ha comprado hoy 63 unidades de turrolate en el obrador, que son 7 veces más que las que compró la semana pasada durante su primera visita. ¿Cuántas unidades de turrolate compró la semana pasada?

Datos

Dibujo

Cálculo



Solución:.....


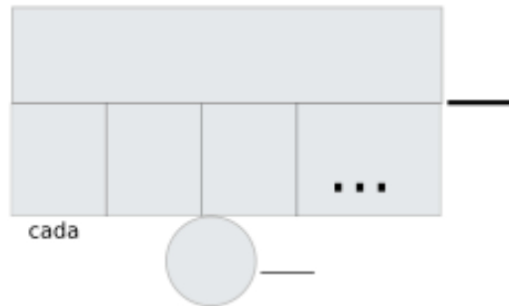
Problemas de Matemáticas:

El maestro turrolatero ha utilizado 45 kilos de almendras hoy, que son 5 veces más que los que usó el lunes pasado cuando estaba probando una nueva receta. ¿Cuántos kilos de almendras usó el lunes pasado?

Datos

Dibujo

Cálculo




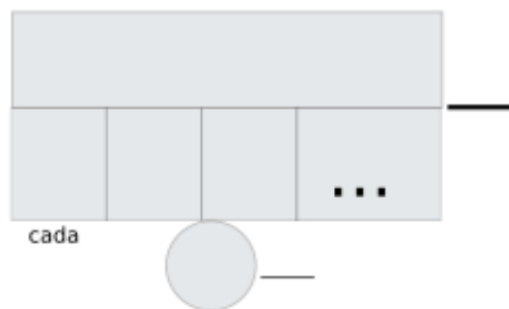
Solución:.....

Para la feria del pueblo, el obrador ha preparado 99 porciones individuales de turrolate para degustación, que son 9 veces más de las que prepararon para la degustación del mercado local. ¿Cuántas porciones prepararon para el mercado local?

Datos

Dibujo

Cálculo



Solución:.....