

Problemas de Matemáticas

Nombre:..... Fecha:.....

Un granjero tiene 85 vacas. Si para tener el mismo número de vacas que el granjero, un vecino necesita sumar 32 vacas a su rebaño, ¿cuántas vacas tiene el vecino?

Datos

Dibujo




Cálculo

Solución:.....

María ha leído 123 páginas de un libro. Para tener la misma cantidad de páginas leídas que María, Juan debe leer 45 páginas más. ¿Cuántas páginas ha leído Juan?

Datos

Dibujo



Cálculo

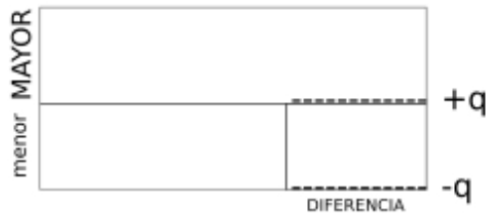
Solución:.....

Problemas de Matemáticas:

En una tienda, un televisor cuesta 450 euros. Para que el precio de una consola sea igual al precio del televisor, habría que añadirle 135 euros al precio de la consola. ¿Cuál es el precio de la consola?

Datos

Dibujo



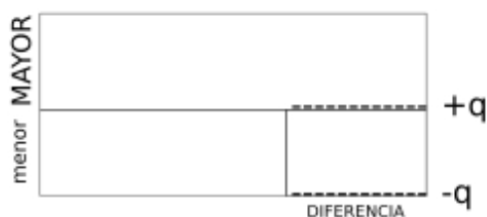
Cálculo

Solución:.....

Un camión transporta 315 cajas. Para que otro camión transporte la misma cantidad de cajas, necesita cargar 78 cajas adicionales. ¿Cuántas cajas transporta el segundo camión?

Datos

Dibujo



Cálculo

Solución:.....