


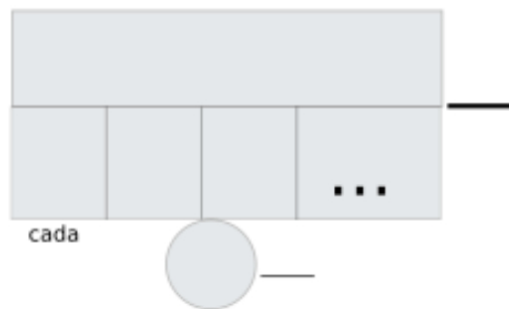
# Problemas de Matemáticas

En el desfile de carnaval, un grupo de 8 amigos disfrazados de payasos lleva cada uno 6 globos. ¿Cuántos globos llevan en total los payasos?

Datos

Dibujo

Cálculo




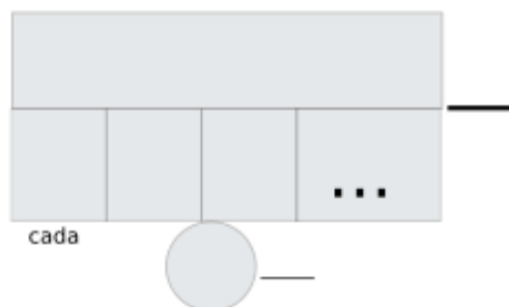
Solución:.....

Para decorar su carroza, el colegio ha inflado 9 racimos de globos. Cada racimo tiene 7 globos de colores. ¿Cuántos globos han inflado en total?

Datos

Dibujo

Cálculo



Solución:.....

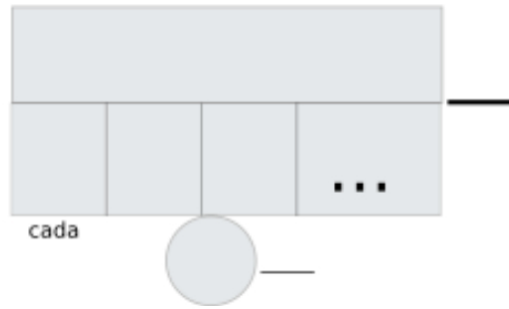
# Problemas de Matemáticas:

María ha hecho 12 disfraces de mariposa para el carnaval. Para cada disfraz necesita 4 antenas. ¿Cuántas antenas ha necesitado María en total?

Datos

Dibujo

Cálculo



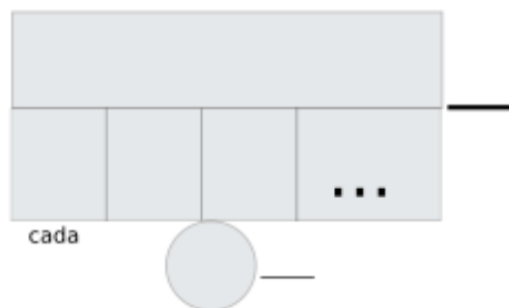
Solución:.....

En el concurso de disfraces, se han apuntado 7 equipos de 9 personas cada uno. ¿Cuántas personas participan en total en el concurso?

Datos

Dibujo

Cálculo



Solución:.....