

Nombre:..... Fecha:.....

Liam encontró **15** cocos en la playa. Luego encontró **7** cocos más.
 ¿Cuántos cocos tiene Liam en **total**? (CA1)

Datos

.....

.....

.....

Dibujo



Cálculo

Solución:.....

Sofia tenía **25** caracoles. Le dio **8** caracoles a Mateo. ¿Cuántos caracoles le quedan a Sofia? (CA2)

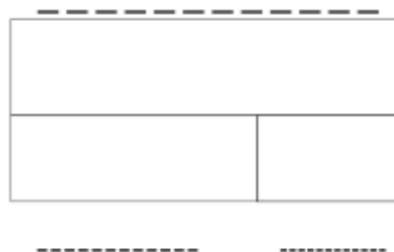
Datos

.....

.....

.....

Dibujo



Cálculo

Solución:.....

Problemas de Matemáticas:

David tenía algunos peces en su cubo. Después pescó **12** peces más y ahora tiene **28** peces. ¿Cuántos peces tenía David al **principio**? (CA5)

Datos

Dibujo



Cálculo

Solución:.....

Elena tenía algunos euros. Gastó **15€** en una brújula y ahora le quedan **32€**. ¿Cuántos euros tenía Elena al **principio**? (CA6)

Datos

Dibujo



Cálculo

Solución:.....

Problemas de Matemáticas:

Carlos recogió **18** piedras brillantes y Ana recogió **23** piedras brillantes. ¿Cuántas piedras brillantes recogieron entre **todos**? (COMB1)

Datos

Dibujo



Cálculo

Solución:.....

Isabel tiene **35** flores, **14** son rojas. ¿Cuántas flores **NO** son rojas? (COMB2)

Datos

Dibujo



Cálculo

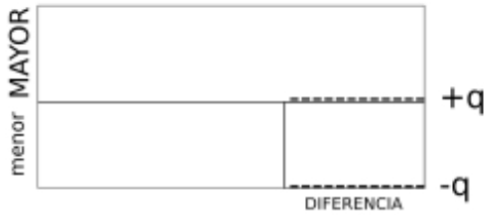
Solución:.....

Problemas de Matemáticas:

Pablo tiene **42** mapas antiguos. Marcos tiene **15** mapas más que Pablo.
 ¿Cuántos mapas tiene Marcos? (COMP3)

Datos

Dibujo



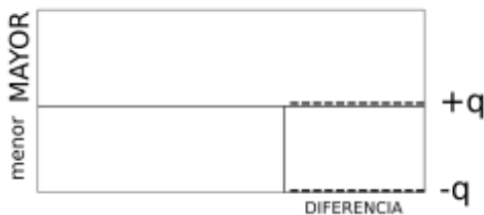
Cálculo

Solución:.....

Lucía tiene **55** plumas de aves exóticas. Tiene **21** plumas menos que Hugo.
 ¿Cuántas plumas tiene Hugo? (COMP4)

Datos

Dibujo



Cálculo

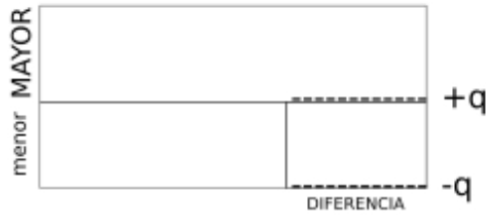
Solución:.....

Problemas de Matemáticas:

Sara tiene **68** monedas de oro, que son **25** monedas más que las de Tomás. ¿Cuántas monedas de oro tiene Tomás? (COMP5)

Datos

Dibujo



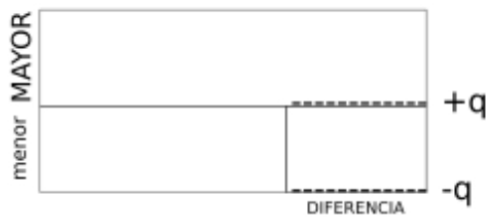
Cálculo

Solución:.....

Pedro tiene **73** conchas marinas. Julia tiene **31** conchas menos que Pedro. ¿Cuántas conchas tiene Julia? (COMP6)

Datos

Dibujo



Cálculo

Solución:.....

Problemas de Matemáticas:

En la isla hay **37** palmeras y **59** árboles de mango. ¿Cuántas palmeras **más** se necesitan plantar para que haya la misma cantidad de palmeras que de árboles de mango? (IGU1)

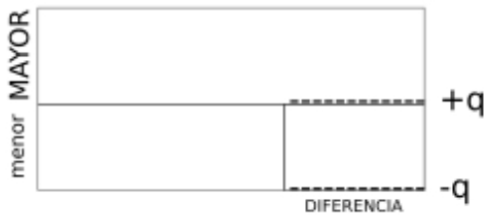
Datos

.....

.....

.....

Dibujo



Cálculo

Solución:.....

En la isla hay **84** monos y **46** iguanas. ¿Cuántos monos tienen que **irse** para que haya la misma cantidad de monos que de iguanas? (IGU2)

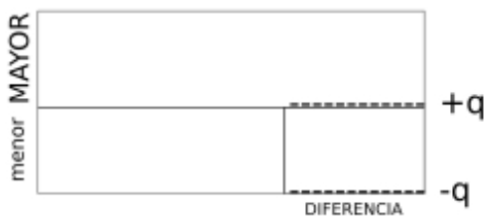
Datos

.....

.....

.....

Dibujo



Cálculo

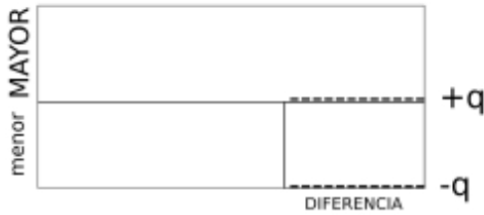
Solución:.....

Problemas de Matemáticas:

Juan tiene **92** bayas. Si María encuentra **28** bayas **más**, tendrá las mismas que Juan. ¿Cuántas bayas tiene María? (IGU3)

Datos

Dibujo



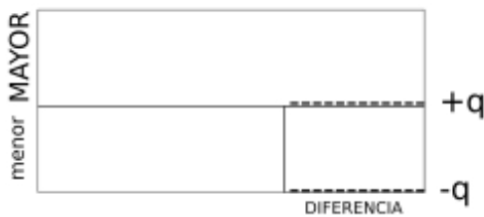
Cálculo

Solución:.....

Rosa tiene **105** piedras. Si Daniel **pierde 36** piedras, tendrá las mismas que Rosa. ¿Cuántas piedras tiene Daniel? (IGU4)

Datos

Dibujo



Cálculo

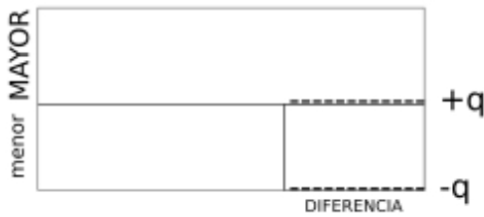
Solución:.....

Problemas de Matemáticas:

Alberto tiene **116** trozos de cristal de mar. Para tener los mismos que Laura, necesita encontrar **45** más. ¿Cuántos trozos de cristal de mar tiene Laura? (IGU5)

Datos

Dibujo



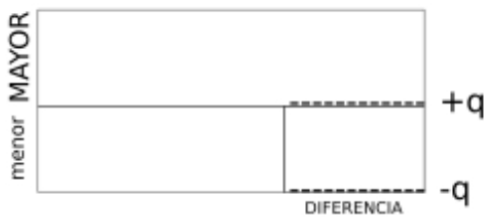
Cálculo

Solución:.....

Carmen tiene **128** hojas. Si regala **53** hojas, tendrá las mismas que Diego. ¿Cuántas hojas tiene Diego? (IGU6)

Datos

Dibujo



Cálculo

Solución:.....

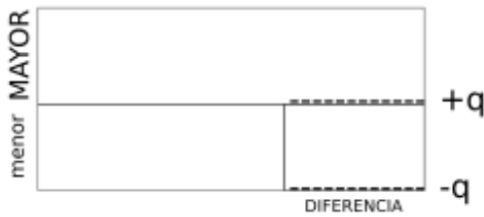
Problemas de Matemáticas:

Carla tiene **14** sellos de animales raros y Ángel tiene **38**. ¿Cuántos sellos tiene que **dar** Ángel a Carla para que ambos tengan la misma cantidad? (R1)

Datos

?	

Dibujo



Cálculo

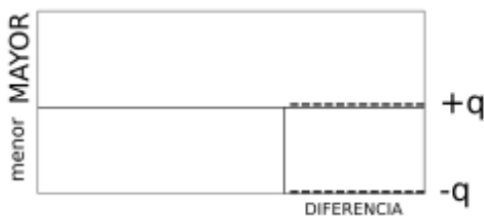
Solución:.....

Manuel tiene **21** mapas y Olivia tiene **47** mapas. ¿Cuántos mapas tiene que **recibir** Manuel de Olivia para tener la misma cantidad? (R2)

Datos

?	

Dibujo



Cálculo

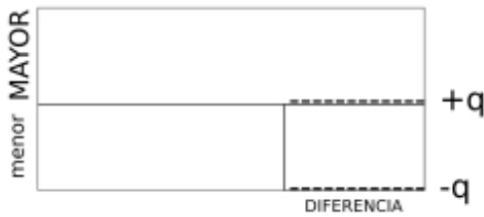
Solución:.....

Problemas de Matemáticas:

Sofía tenía **29** semillas mágicas. Luis le dio algunas semillas. Ahora Sofía tiene las mismas que Pablo, que tiene **51**. ¿Cuántas semillas le dio Luis a Sofía? (R14)

Datos

Dibujo



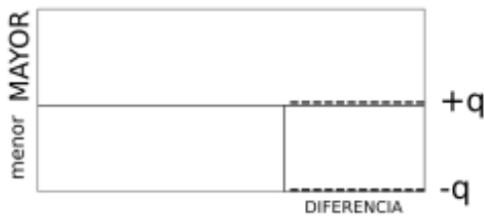
Cálculo

Solución:.....

Javier tiene **62** piedras preciosas. Le dio algunas a Inés y ahora tiene las mismas que Inés. Si Javier le dio **19** piedras a Inés, ¿cuántas piedras tenía Inés al principio? (R13)

Datos

Dibujo



Cálculo

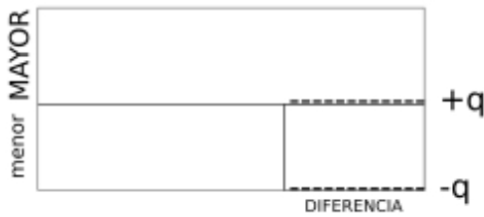
Solución:.....

Problemas de Matemáticas:

Valentina tenía **85** plumas. Regaló algunas a Hugo y ahora tiene las mismas que Hugo. Si Valentina regaló **32** plumas, ¿cuántas plumas tenía Valentina al principio? (R15)

Datos

Dibujo



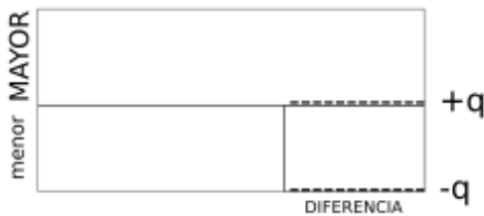
Cálculo

Solución:.....

Mateo tiene **97** canicas. Recibió algunas de Lucía y ahora tiene las mismas que Lucía. Si Lucía le dio **41** canicas, ¿cuántas canicas tenía Lucía al principio? (R16)

Datos

Dibujo



Cálculo

Solución:.....

Problemas de Matemáticas:

El pirata Barbaverde encontró **8** cofres llenos de monedas de oro. Si cada cofre tiene **150** monedas, ¿cuántas monedas de oro encontró en **total** Barbaverde? (IM1)

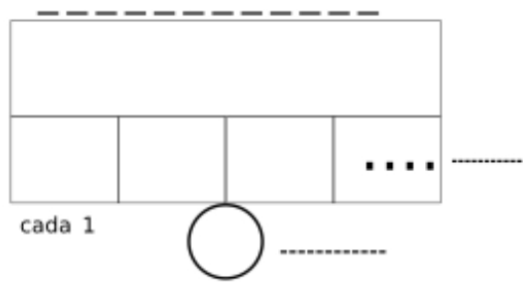
Datos

.....

.....

?

Dibujo



Cálculo

Solución:.....

Un grupo de **6** exploradores encontraron **252** gemas brillantes. Si quieren repartirlas equitativamente entre ellos, ¿cuántas gemas recibirá **cada** explorador? (IM2)

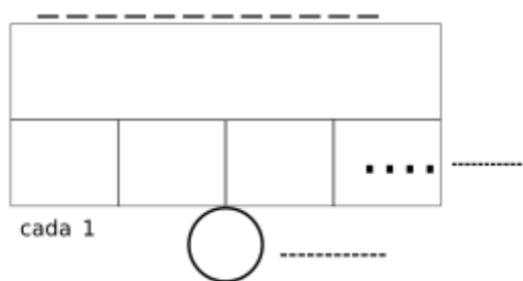
Datos

.....

.....

?

Dibujo



Cálculo

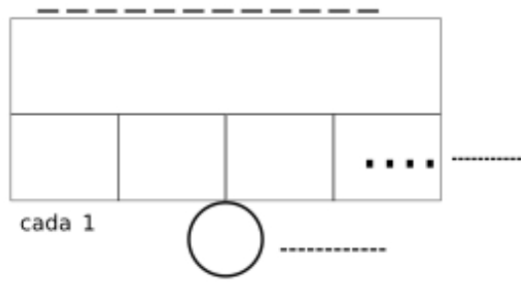
Solución:.....

Problemas de Matemáticas:

Hay **315** flores exóticas en la isla. Si cada explorador hace ramos de **9** flores, ¿cuántos ramos pueden hacer en **total**? (IM3)

Datos

Dibujo



Cálculo

Solución:.....

Ana recogió **45** conchas el lunes. El martes recogió **18** conchas más. ¿Cuántas conchas recogió Ana en **total**? (CA1)

Datos

Dibujo



Cálculo

Solución:.....

Problemas de Matemáticas:

Carlos tenía **72** frutas. Se comió **29**. ¿Cuántas frutas le quedan a Carlos? (CA2)

Datos

Dibujo



Cálculo

Solución:.....

Elena tenía algunas pegatinas. Su amiga le regaló **35** pegatinas y ahora tiene **81**. ¿Cuántas pegatinas tenía Elena al **principio**? (CA5)

Datos

Dibujo



Cálculo

Solución:.....

Problemas de Matemáticas:

Fernando tenía algunos sellos. Le dio **24** sellos a su hermano y ahora tiene **63** sellos. ¿Cuántos sellos tenía Fernando al **principio**? (CA6)

Datos

Dibujo



Cálculo

Solución:.....

Gabriela tiene **125** cuentas rojas y **96** cuentas azules. ¿Cuántas cuentas tiene en **total**? (COMB1)

Datos

Dibujo



Cálculo

Solución:.....

Problemas de Matemáticas:

Hugo tiene **238** lápices de colores, **82** son verdes. ¿Cuántos lápices NO son verdes? (COMB2)

Datos

Dibujo



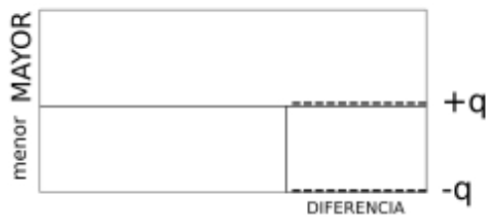
Cálculo

Solución:.....

Irene tiene **341** cromos. Juan tiene **77** cromos más que Irene. ¿Cuántos cromos tiene Juan? (COMP3)

Datos

Dibujo



Cálculo

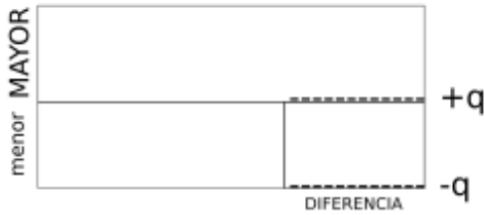
Solución:.....

Problemas de Matemáticas:

Laura tiene **456** libros. Tiene **132** libros menos que Marta. ¿Cuántos libros tiene Marta? (COMP4)

Datos

Dibujo



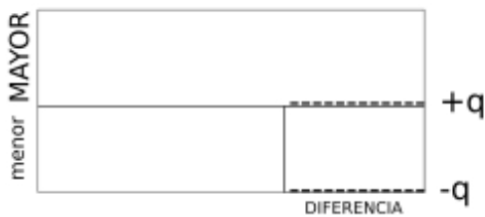
Cálculo

Solución:.....

Manuel tiene **562** canicas, que son **248** más que las de Nuria. ¿Cuántas canicas tiene Nuria? (COMP5)

Datos

Dibujo



Cálculo

Solución:.....

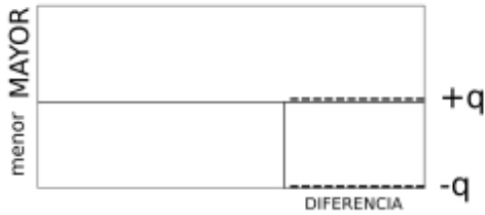
Problemas de Matemáticas:

Olivia tiene **677** cartas. Pedro tiene **359** cartas menos que Olivia.

¿Cuántas cartas tiene Pedro? (COMP6)

Datos

Dibujo



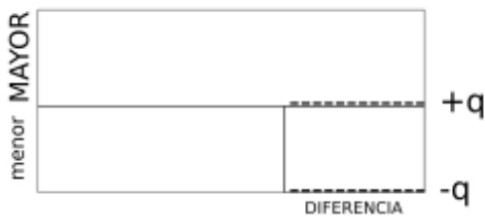
Cálculo

Solución:.....

Raúl tiene **783** videojuegos y Sara tiene **951**. ¿Cuántos videojuegos **más** necesita Raúl para tener la misma cantidad que Sara? (IGU1)

Datos

Dibujo



Cálculo

Solución:.....

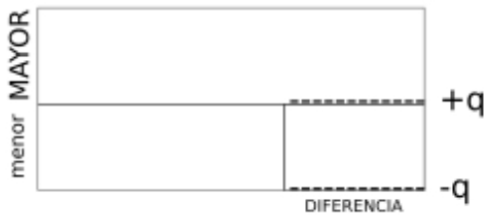
Problemas de Matemáticas:

Tomás tiene **894** piezas de Lego y Úrsula tiene **527**. ¿Cuántas piezas tiene que **regalar** Tomás a Úrsula para que ambos tengan la misma cantidad? (IGU2)

Datos

?	

Dibujo



Cálculo

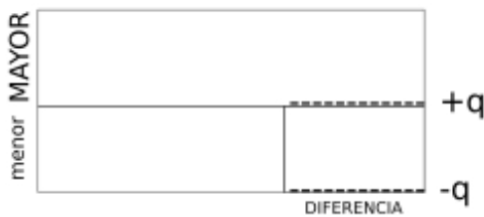
Solución:.....

Valeria tiene **905** fotos. Si Adrián hace **146** fotos **más**, tendrá las mismas que Valeria. ¿Cuántas fotos tiene Adrián? (IGU3)

Datos

?	

Dibujo



Cálculo

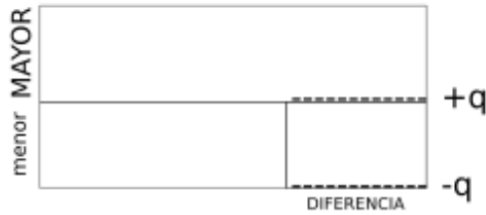
Solución:.....

Problemas de Matemáticas:

Xavier tiene **1.016** cromos. Si Yolanda **pierde 257** cromos, tendrá las mismas que Xavier. ¿Cuántos cromos tiene Yolanda? (IGU4)

Datos

Dibujo



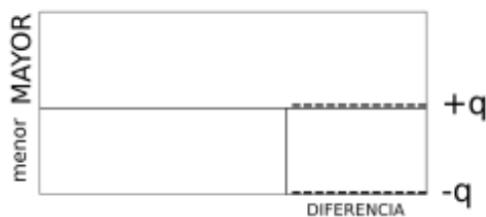
Cálculo

Solución:.....

Zoe tiene **1.127** pulseras. Para tener las mismas que Andrés, necesita hacer **368** más. ¿Cuántas pulseras tiene Andrés? (IGU5)

Datos

Dibujo



Cálculo

Solución:.....

Problemas de Matemáticas:

David tenía **23** piedras. Encontró algunas más y ahora tiene **65**.
¿Cuántas piedras encontró? (CA3)

Datos

<input type="text"/>	-----
<input type="text"/>	-----
<input type="text" value="?"/>	-----

Dibujo



Cálculo

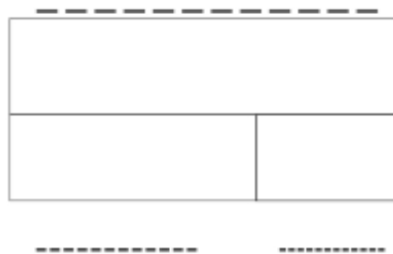
Solución:.....

Elena tenía **87** sellos. Regaló algunos y ahora tiene **41**. ¿Cuántos sellos regaló Elena? (CA4)

Datos

<input type="text"/>	-----
<input type="text"/>	-----
<input type="text" value="?"/>	-----

Dibujo



Cálculo

Solución:.....

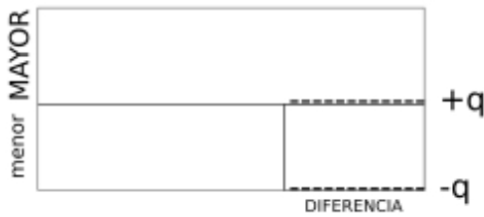
Problemas de Matemáticas:

Mario tiene **1.238** monedas de plata. Si regala **479** monedas, tendrá las mismas que Beatriz. ¿Cuántas monedas de plata tiene Beatriz?

(IGU6)

Datos

Dibujo



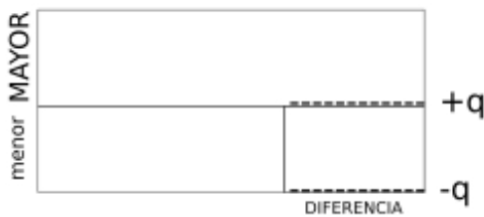
Cálculo

Solución:.....

Carla tiene **18** pulseras y Ángel tiene **42**. ¿Cuántas pulseras tiene que **dar** Ángel a Carla para que ambos tengan la misma cantidad? (R1)

Datos

Dibujo



Cálculo

Solución:.....

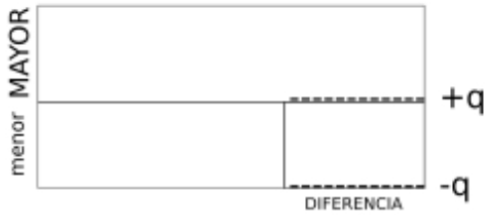
Problemas de Matemáticas:

Manuel tiene **26** sellos y Olivia tiene **54** sellos. ¿Cuántos sellos tiene que **recibir** Manuel de Olivia para tener la misma cantidad? (R12)

Datos

?	

Dibujo



Cálculo

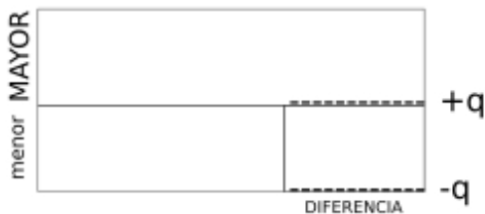
Solución:.....

Sofía tenía **33** cuentas. Luis le dio algunas cuentas. Ahora Sofía tiene las mismas que Pablo, que tiene **59**. ¿Cuántas cuentas le dio Luis a Sofía? (R14)

Datos

?	

Dibujo



Cálculo

Solución:.....

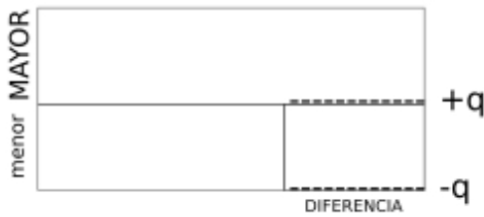
Problemas de Matemáticas:

Javier tiene **68** canicas. Le dio algunas a Inés y ahora tiene las mismas que Inés. Si Javier le dio **21** canicas a Inés, ¿cuántas canicas tenía Inés al principio? (R13)

Datos

?	

Dibujo



Cálculo

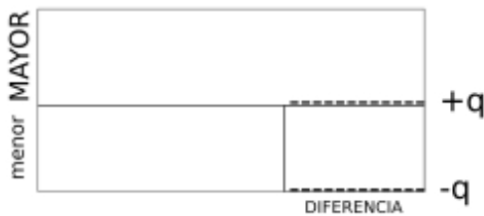
Solución:.....

Valentina tenía **92** hojas. Regaló algunas a Hugo y ahora tiene las mismas que Hugo. Si Valentina regaló **35** hojas, ¿cuántas hojas tenía Valentina al principio? (R15)

Datos

?	

Dibujo



Cálculo

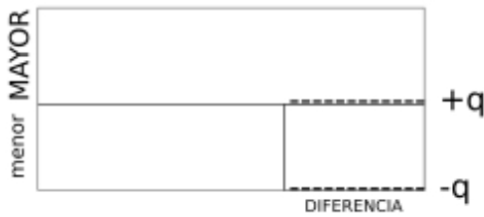
Solución:.....

Problemas de Matemáticas:

Mateo tiene **101** piedras preciosas. Recibió algunas de Lucía y ahora tiene las mismas que Lucía. Si Lucía le dio **43** piedras preciosas, ¿cuántas piedras preciosas tenía Lucía al principio? (R16)

Datos

Dibujo



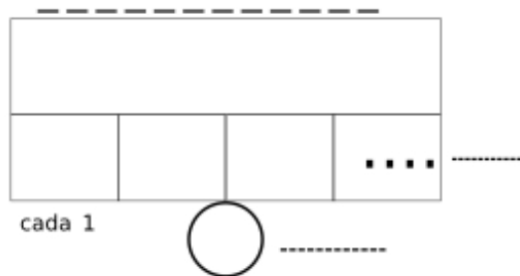
Cálculo

Solución:.....

En la isla hay **12** árboles de coco. En cada árbol hay **25** cocos. ¿Cuántos cocos hay en **total** en la isla? (IM1)

Datos

Dibujo



Cálculo

Solución:.....

Problemas de Matemáticas:

Un grupo de **8** exploradores encontró **368** plumas de aves exóticas. Si quieren repartirlas equitativamente entre ellos, ¿cuántas plumas recibirá **cada** explorador? (IM2)

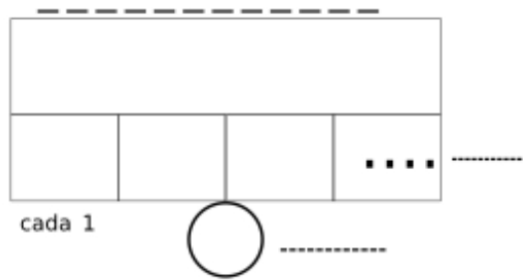
Datos

.....

.....

?

Dibujo



Cálculo

Solución:.....

Hay **425** flores silvestres en la isla. Si cada explorador hace ramos de **5** flores, ¿cuántos ramos pueden hacer en **total**? (IM3)

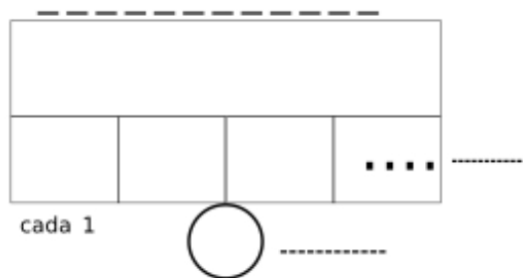
Datos

.....

.....

?

Dibujo



Cálculo

Solución:.....