

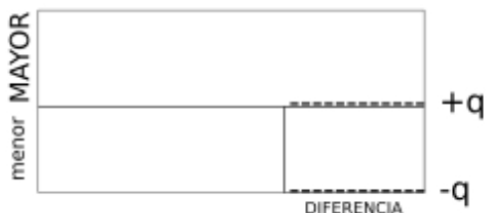
Problemas de Matemáticas

Nombre:..... Fecha:.....

Juan ha visto 15 películas de acción, y ha visto 7 veces menos películas de acción que Ana. ¿Cuántas películas de acción ha visto Ana?

Datos

Dibujo



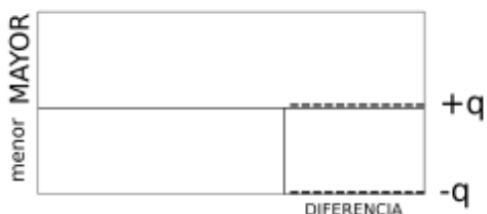
Cálculo

Solución:.....

En la estantería de Pedro hay 8 DVD's de películas de comedia. Él tiene 6 veces menos DVD's de comedia que su amigo Carlos. ¿Cuántos DVD's de comedia tiene Carlos?

Datos

Dibujo



Cálculo

Solución:.....

Problemas de Matemáticas:

Marta ha gastado 9 euros en entradas para el cine. Esta cantidad es 4 veces menor que lo que ha gastado Lucía. ¿Cuántos euros ha gastado Lucía en entradas de cine?

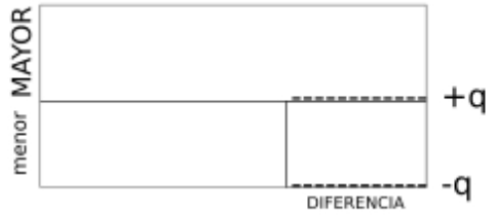
Datos

.....

.....

.....

Dibujo



Cálculo

Solución:.....

El cine de mi barrio tiene 25 salas y este número es 2 veces menor que el cine del centro comercial. ¿Cuántas salas tiene el cine del centro comercial?

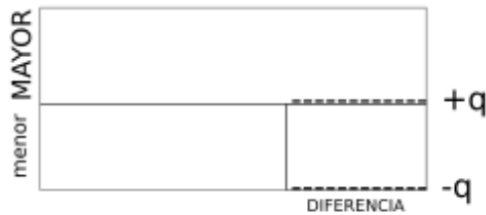
Datos

.....

.....

.....

Dibujo



Cálculo

Solución:.....