

Problemas de Matemáticas

Nombre:..... Fecha:.....

Ana tiene 5 🍎 y Luis tiene 2 🍎. ¿Cuántas 🍎 necesita Luis para tener la misma cantidad que Ana?

👧 : 🍎 🍎 🍎 🍎 🍎

👦 : 🍎 🍎

Datos

Dibujo

Cálculo



Solución:.....

María tiene 8 🧸 y Pedro tiene 3 🧸. ¿Cuántos 🧸 necesita Pedro para tener la misma cantidad que María?

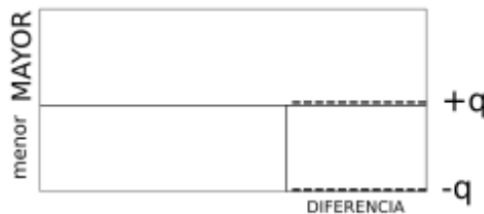
👧 : 🧸 🧸 🧸 🧸 🧸 🧸 🧸 🧸

👦 : 🧸 🧸 🧸

Datos

Dibujo

Cálculo



Solución:.....

Problemas de Matemáticas:

Sofía tiene 4 🎈 y Carlos tiene 7 🎈. ¿Cuántos 🎈 necesita Sofía para tener la misma cantidad que Carlos?

👧: 🎈 🎈 🎈 🎈

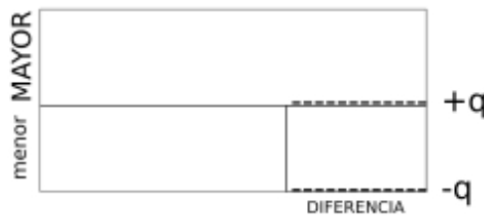
👦: 🎈 🎈 🎈 🎈 🎈 🎈 🎈

Datos

Dibujo

Cálculo

? _____



Solución:.....

Elena tiene 6 🍪 y Juan tiene 2 🍪. ¿Cuántas 🍪 necesita Juan para tener la misma cantidad que Elena?

👧: 🍪 🍪 🍪 🍪 🍪 🍪

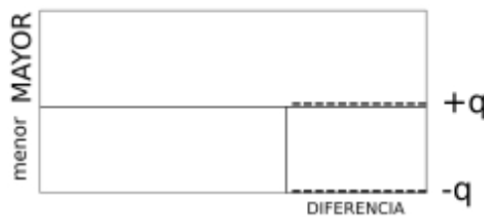
👦: 🍪 🍪

Datos

Dibujo

Cálculo

? _____



Solución:.....

Problemas de Matemáticas:

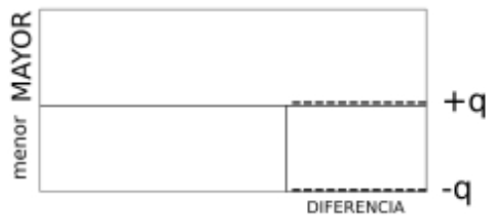
Laura tiene 9 ★ y Pablo tiene 4 ★. ¿Cuántas ★ necesita Pablo para tener la misma cantidad que Laura?

👧: ★★ ★★ ★★ ★★ ★★ ★★ ★★ ★★

👦: ★★ ★★ ★★ ★★

Datos

Dibujo



Cálculo

Solución:.....

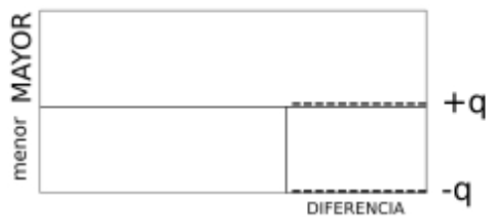
Marta tiene 3 € y David tiene 7 €. ¿Cuántos € necesita Marta para tener la misma cantidad que David?

👧: €€€

👦: €€€€€€€€

Datos

Dibujo



Cálculo

Solución:.....