

La Biblioteca Encantada: Aventuras Matemáticas en 4º de Primaria

Nombre:..... Fecha:.....

1. Ana entra en la biblioteca y ve **15** libros de aventuras. Luego, encuentra **8** libros más de misterio. ¿Cuántos libros ve Ana en **total**? (CA1)

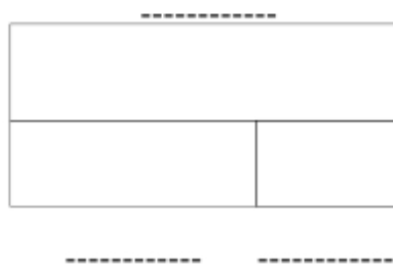
Datos

.....

.....

?

Dibujo



Cálculo

Solución:.....

2. Carlos elige **25** cuentos de la biblioteca. En casa, lee **12** cuentos. ¿Cuántos cuentos le quedan **por leer**? (CA2)

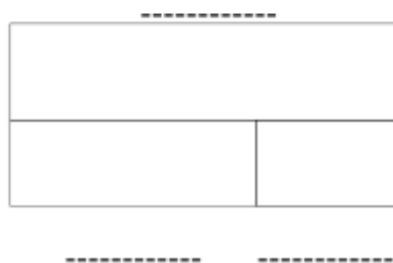
Datos

.....

.....

?

Dibujo



Cálculo

Solución:.....

Problemas de Matemáticas:

3. Sofía tenía **10** marcapáginas. Ahora tiene **18**. ¿Cuántos marcapáginas **ha conseguido** Sofía? (CA3)

Datos

Dibujo



Cálculo

Solución:.....

4. Pedro tenía **30** cómics en la biblioteca. Después de leer **algunos**, le quedan **17**. ¿Cuántos cómics **leyó** Pedro? (CA4)

Datos

Dibujo



Cálculo

Solución:.....

Problemas de Matemáticas:

5. Lucía leyó **varias** páginas el lunes. El martes leyó **15** páginas y ahora ha leído **32** páginas en total. ¿Cuántas páginas leyó Lucía el **lunes**? (CA5)

Datos

.....

.....

?

Dibujo



Cálculo

Solución:.....

6. Mario tenía **algunos** libros de animales. Donó **7** libros a la biblioteca y ahora tiene **21** libros. ¿Cuántos libros tenía Mario **al principio**? (CA6)

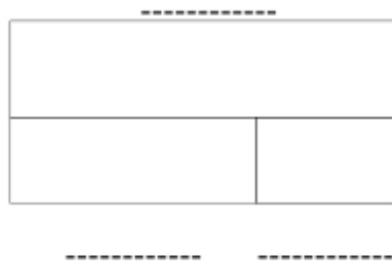
Datos

.....

.....

?

Dibujo



Cálculo

Solución:.....

Problemas de Matemáticas:

7. En una estantería hay **12** libros de poesía y **18** libros de historia. ¿Cuántos libros hay en **total** en la estantería?

(COMB1)

Datos

Dibujo



Cálculo

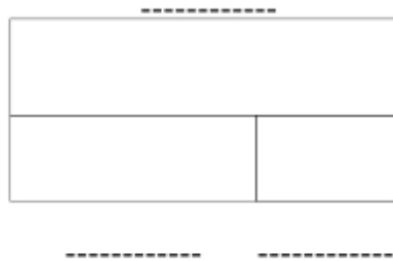
Solución:.....

8. En la sala de lectura hay **35** sillas. **15** sillas son azules y el resto son rojas. ¿Cuántas sillas rojas hay en la sala de lectura?

(COMB2)

Datos

Dibujo



Cálculo

Solución:.....

Problemas de Matemáticas:

9. El bibliotecario tiene **45** sellos de libros. Tiene **12** sellos más que postales. ¿Cuántas postales tiene el bibliotecario? (COMP1)

Datos

Dibujo



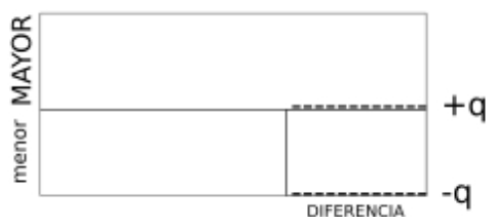
Cálculo

Solución:.....

10. En la biblioteca hay **50** cuentos. Hay **20** cuentos menos que novelas. ¿Cuántos cuentos hay en la biblioteca? (COMP2)

Datos

Dibujo



Cálculo

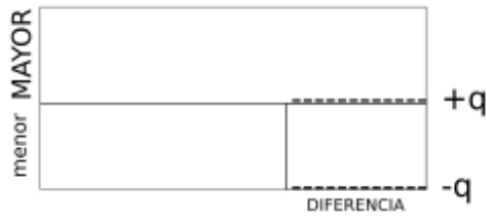
Solución:.....

Problemas de Matemáticas:

11. David tiene **22** libros. Elena tiene **9** libros más que David. ¿Cuántos libros tiene Elena? (COMP3)

Datos

Dibujo



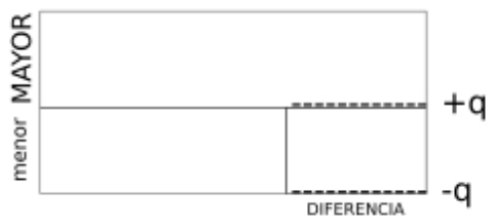
Cálculo

Solución:.....

12. Marta tiene **18** años. Su hermano Luis tiene **5** años menos que ella. ¿Cuántos años tiene Marta? (COMP4)

Datos

Dibujo



Cálculo

Solución:.....

Problemas de Matemáticas:

13. En la biblioteca hay **65** libros de ciencia ficción, que son **23** más que los libros de terror. ¿Cuántos libros de terror hay? (COMP5)

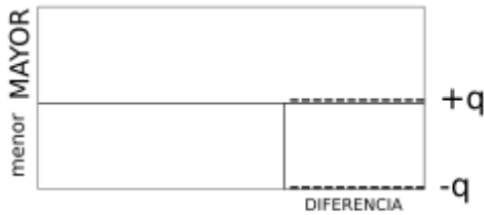
Datos

.....

.....

.....

Dibujo



Cálculo

Solución:.....

14. Juan tiene **42** cómics. Sara tiene **15** cómics menos que Juan. ¿Cuántos cómics tiene Sara? (COMP6)

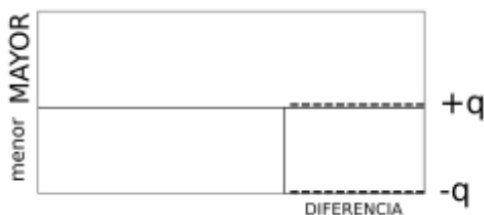
Datos

.....

.....

.....

Dibujo



Cálculo

Solución:.....

Problemas de Matemáticas:

15. Irene tiene **31** libros. Carlos tiene **14** libros. ¿Cuántos libros necesita Irene **más** para tener los mismos que Carlos? (IGU1)

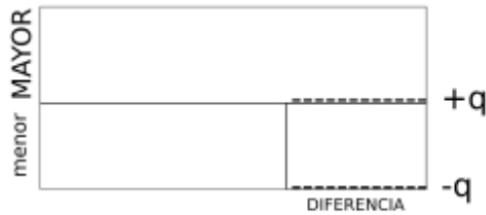
Datos

.....

.....

?

Dibujo



Cálculo

Solución:.....

16. Pablo tiene **52** libros. Sofía tiene **29** libros. ¿Cuántos libros necesita recoger Pablo **para tener** la misma cantidad que Sofía? (IGU2)

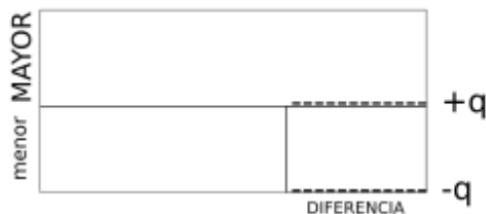
Datos

.....

.....

?

Dibujo



Cálculo

Solución:.....

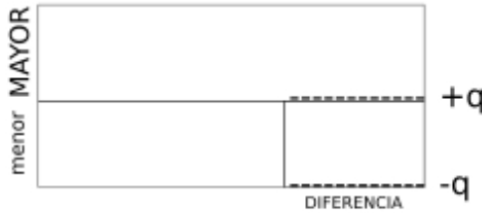
Problemas de Matemáticas:

17. Laura tiene **48** bolígrafos. Si añadimos **19** bolígrafos a los que tiene Ana, ella tendrá la misma cantidad que Laura. ¿Cuántos bolígrafos tiene Ana? (IGU3)

Datos

<input type="text"/>	-----
<input type="text"/>	-----
<input type="text" value="?"/>	-----

Dibujo



Cálculo

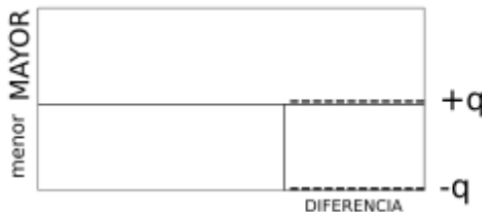
Solución:.....

18. Guillermo tiene **27** canicas. Lucía tiene algunas canicas, pero si le quitamos **11** canicas, tendría las mismas que Guillermo. ¿Cuántas canicas tiene Lucía? (IGU4)

Datos

<input type="text"/>	-----
<input type="text"/>	-----
<input type="text" value="?"/>	-----

Dibujo



Cálculo

Solución:.....

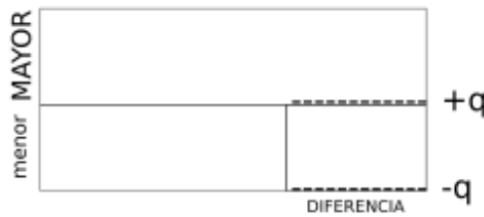
Problemas de Matemáticas:

19. Rosa tiene **16** lápices. Mateo tiene algunos lápices, pero si Rosa le añade **9** lápices, entonces Mateo tendrá la misma cantidad que tiene ahora. ¿Cuántos lápices tiene Mateo? (IGU5)

Datos

<input type="text"/>	-----
<input type="text"/>	-----
<input type="text" value="?"/>	-----

Dibujo



Cálculo

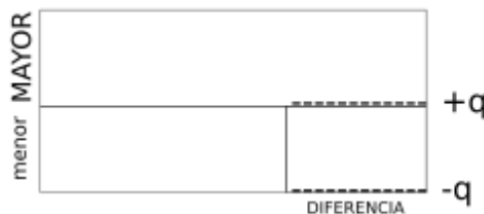
Solución:.....

20. Daniel tiene **63** cromos. Si pierde **25** cromos jugando, tendrá los mismos cromos que Alba. ¿Cuántos cromos tiene Alba? (IGU6)

Datos

<input type="text"/>	-----
<input type="text"/>	-----
<input type="text" value="?"/>	-----

Dibujo



Cálculo

Solución:.....

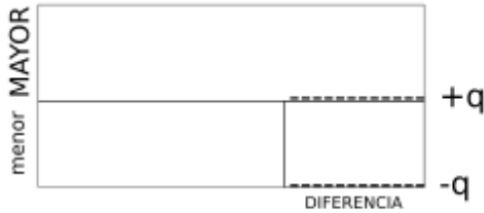
Problemas de Matemáticas:

21. María tiene **17** sellos y Juan tiene **33** sellos. ¿Cuántos sellos debe dar Juan a María para que ambos tengan la misma cantidad? (RI1)

Datos

<input type="text"/>	_____
<input type="text"/>	_____
<input type="text" value="?"/>	_____

Dibujo



Cálculo

Solución:.....

22. Marcos tiene **24** canicas y Lucía tiene **10** canicas. ¿Cuántas canicas tiene que recibir Lucía de Marcos para tener la misma cantidad? (RI2)

Datos

<input type="text"/>	_____
<input type="text"/>	_____
<input type="text" value="?"/>	_____

Dibujo



Cálculo

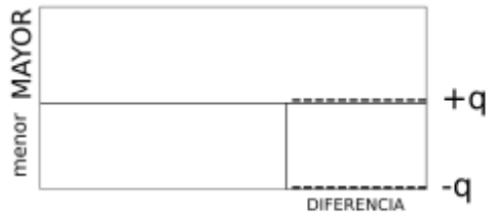
Solución:.....

Problemas de Matemáticas:

23. Carmen tiene **8** pegatinas. Después de que Pedro le diera algunas, ahora tiene las mismas que él, que tiene **19**.
¿Cuántas pegatinas le dio Pedro? (RI3)

Datos

Dibujo



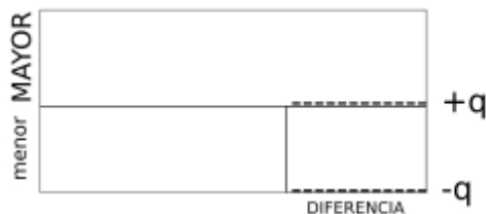
Cálculo

Solución:.....

24. Alicia tiene **11** gomas de borrar. Tras recibir algunas de Raúl, ahora tiene las mismas que él. Raúl, inicialmente, tenía **23**. ¿Cuántas gomas recibió Alicia de Raúl? (RI4)

Datos

Dibujo



Cálculo

Solución:.....

Problemas de Matemáticas:

25. Sergio tiene **41** rotuladores. Después de darle algunos a Paula, ahora tiene los mismos que ella, que tiene **24**. ¿Cuántos rotuladores le dio Sergio a Paula? (RI5)

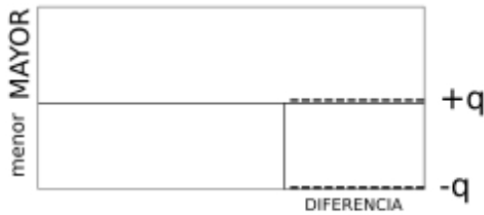
Datos

.....

.....

.....

Dibujo



Cálculo

Solución:.....

26. Andrés tenía **36** clips y le dio algunos a Inés. Ahora Andrés tiene los mismos clips que Inés, que inicialmente tenía **13**. ¿Cuántos clips recibió Inés de Andrés? (RI6)

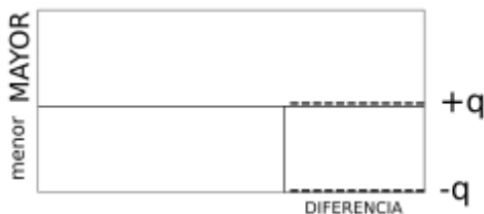
Datos

.....

.....

.....

Dibujo



Cálculo

Solución:.....

Problemas de Matemáticas:

27. La bibliotecaria tiene **5** estanterías. En **cada** estantería hay **20** libros. ¿Cuántos libros hay en **total**? (IM1)

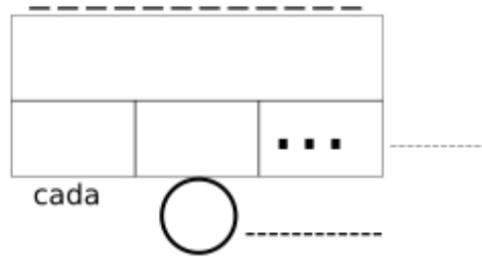
Datos

.....

.....

?

Dibujo



Cálculo

Solución:.....

28. Un grupo de **36** niños visitan la biblioteca. Si quieren formar **6** grupos iguales, ¿cuántos niños habrá en **cada** grupo? (IM2)

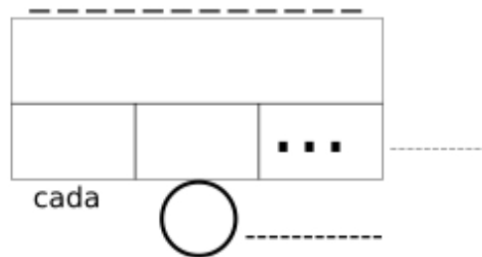
Datos

.....

.....

?

Dibujo



Cálculo

Solución:.....

Problemas de Matemáticas:

29. En la biblioteca hay **40** sillas. Se quieren colocar en filas de **8** sillas. ¿Cuántas filas se pueden formar? (IM3)

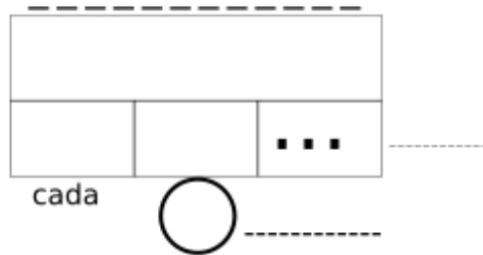
Datos

.....

.....

?

Dibujo



Cálculo

Solución:.....

30. La biblioteca tiene una colección de **15** mapas antiguos. El museo del pueblo tiene **3** veces más mapas que la biblioteca. ¿Cuántos mapas tiene el museo? (EG1)

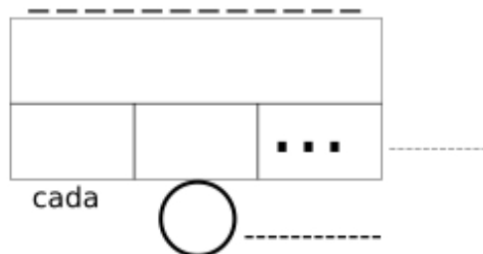
Datos

.....

.....

?

Dibujo



Cálculo

Solución:.....

Problemas de Matemáticas:

31. El club de lectura ha leído **48** libros este año, que es **4** veces más de lo que leyeron el año pasado. ¿Cuántos libros leyeron el año pasado? (EG2)

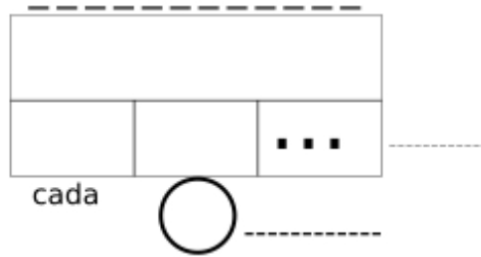
Datos

.....

.....

?

Dibujo



Cálculo

Solución:.....

32. Ana ha donado **30** libros a la biblioteca. Juan ha donado **6** libros. ¿Cuántas veces más libros ha donado Ana que Juan? (EG3)

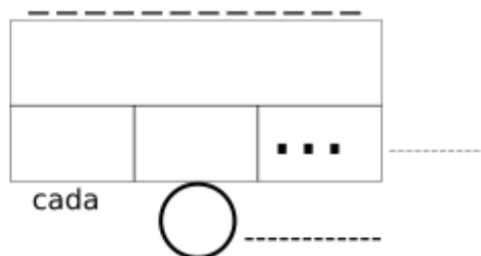
Datos

.....

.....

?

Dibujo



Cálculo

Solución:.....

Problemas de Matemáticas:

33. Luis tiene **24** cómics. Marta tiene **3** veces menos cómics que Luis. ¿Cuántos cómics tiene Marta? (EP1)

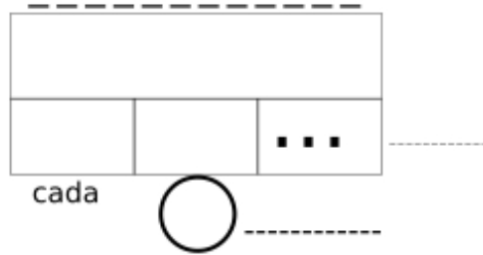
Datos

.....

.....

?

Dibujo



Cálculo

Solución:.....

34. En la biblioteca hay **56** libros de poesía. Hay **7** veces menos libros de teatro que de poesía. ¿Cuántos libros de teatro hay? (EP2)

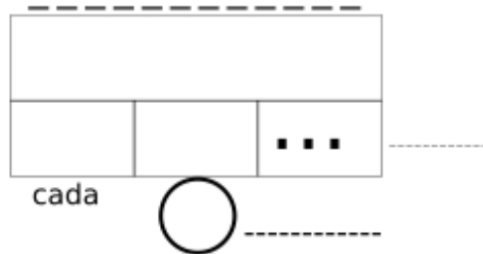
Datos

.....

.....

?

Dibujo



Cálculo

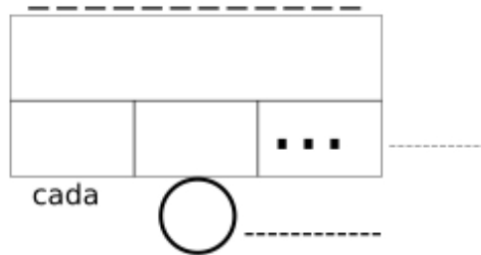
Solución:.....

Problemas de Matemáticas:

35. Pedro tiene **72 €** para comprar libros. Carlos tiene **8 €**.
¿Cuántas veces menos dinero tiene Carlos que Pedro? (EP3)

Datos

Dibujo



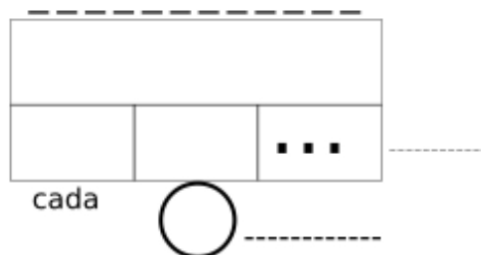
Cálculo

Solución:.....

36. La bibliotecaria tiene **6** sellos diferentes y **5** tipos de tinta.
¿De cuántas formas diferentes puede sellar un libro? (PC1)

Datos

Dibujo



Cálculo

Solución:.....

Problemas de Matemáticas:

37. Para el club de lectura se pueden formar **24** grupos diferentes. Si hay **4** niños en cada grupo, ¿cuántas niñas hay? (PC2)

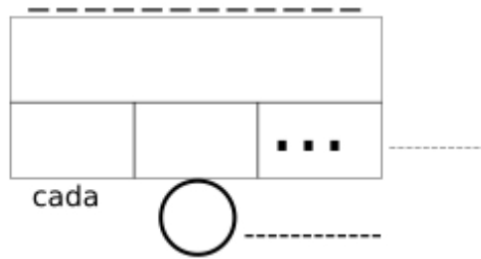
Datos

.....

.....

?

Dibujo



Cálculo

Solución:.....

38. ¿Cuántas combinaciones diferentes de **1** bolígrafo y **1** cuaderno puedes hacer si tienes **5** bolígrafos y **3** cuadernos? (PC1)

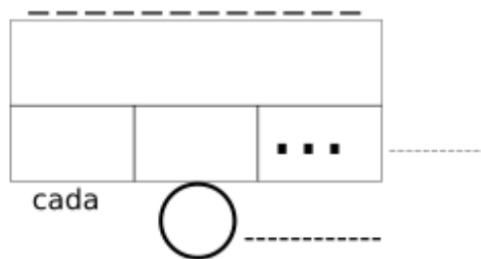
Datos

.....

.....

?

Dibujo



Cálculo

Solución:.....

Problemas de Matemáticas:

39. Sofía encontró **3** monedas de **1€** y **5** monedas de **2€**.
¿Cuánto dinero encontró en total? (CA1)

Datos

Dibujo

Cálculo

Solución:.....

40. Carlos compró un libro por **12€** y pagó con un billete de **20€**. ¿Cuánto dinero le devolvieron? (CA2)

Datos

Dibujo

Cálculo

Solución:.....

Problemas de Matemáticas:

41. María tenía **7** cromos de animales y ahora tiene **19**.
¿Cuántos cromos **más** ha conseguido? (CA3)

Datos

Dibujo



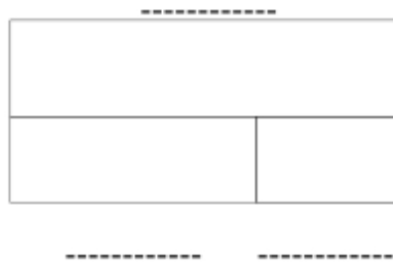
Cálculo

Solución:.....

42. Pedro tenía **25** canicas. Jugando, perdió algunas y ahora le quedan **11**. ¿Cuántas canicas **perdió** Pedro? (CA4)

Datos

Dibujo



Cálculo

Solución:.....

Problemas de Matemáticas:

43. Lucía tenía **algunas** flores secas. Regaló **8** a su amiga y ahora le quedan **16**. ¿Cuántas flores secas tenía **al principio**? (CA6)

Datos

.....

.....

.....

Dibujo

.....

.....

Cálculo

Solución:.....

44. En la biblioteca hay **9** mesas grandes y **11** mesas pequeñas. ¿Cuántas mesas hay en **total**? (COMB1)

Datos

.....

.....

.....

Dibujo

.....

.....

Cálculo

Solución:.....

Problemas de Matemáticas:


45. En la clase hay **28** alumnos. **14** alumnos tienen gafas y el resto no. ¿Cuántos alumnos no tienen gafas? (COMB2)

Datos

Dibujo



Cálculo



Solución:.....


46. El profesor tiene **38** bolígrafos. Tiene **14** bolígrafos más que lápices. ¿Cuántos lápices tiene el profesor? (COMP1)

Datos

Dibujo



Cálculo



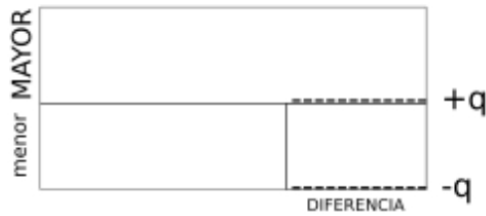
Solución:.....

Problemas de Matemáticas:

47. En la tienda hay **45** pelotas. Hay **17** pelotas menos que muñecas. ¿Cuántas pelotas hay en la tienda? (COMP2)

Datos

Dibujo



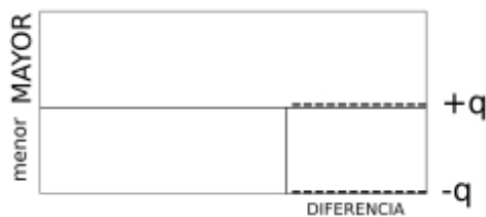
Cálculo

Solución:.....

48. Ana tiene **19** caramelos. Su amiga Laura tiene **7** caramelos más que ella. ¿Cuántos caramelos tiene Laura? (COMP3)

Datos

Dibujo



Cálculo

Solución:.....

Problemas de Matemáticas:

49. Marta tiene **23** años. Su hermano Pablo tiene **6** años menos que ella. ¿Cuántos años tiene Marta? (COMP4)

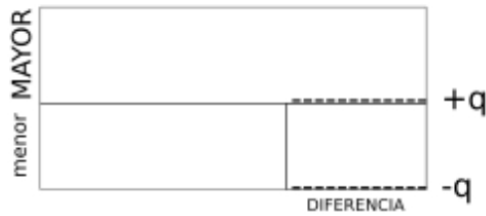
Datos

.....

.....

.....

Dibujo



Cálculo

Solución:.....

50. En el parque hay **53** árboles grandes, que son **19** más que los pequeños. ¿Cuántos árboles pequeños hay? (COMP5)

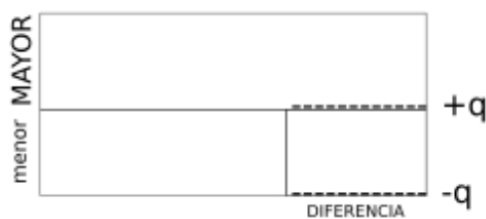
Datos

.....

.....

.....

Dibujo



Cálculo

Solución:.....

Problemas de Matemáticas:

51. Juan tiene **37** coches. Sara tiene **13** coches menos que Juan. ¿Cuántos coches tiene Sara? (COMP6)

Datos

.....

.....

.....

Dibujo



Cálculo

Solución:.....

52. Irene tiene **29** € y Carlos tiene **12** €. ¿Cuántos euros necesita Irene **más** para tener los mismos que Carlos? (IGU1)

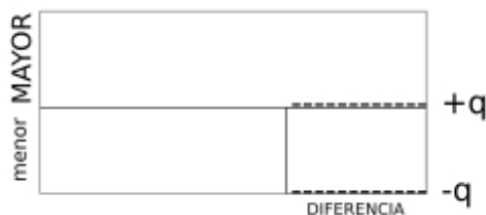
Datos

.....

.....

.....

Dibujo



Cálculo

Solución:.....

Problemas de Matemáticas:

53. Pablo tiene **49** sellos y Sofía tiene **27** sellos. ¿Cuántos sellos necesita regalar Pablo **para tener** la misma cantidad que Sofía? (IGU2)

Datos

<input type="text"/>	-----
<input type="text"/>	-----
<input type="text" value="?"/>	-----

Dibujo



Cálculo

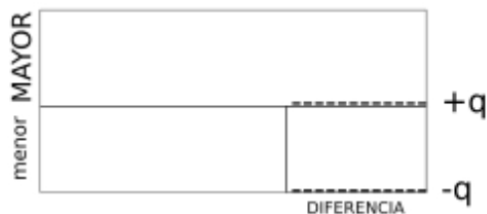
Solución:.....

54. La maestra tiene **39** lápices. Si añadimos **17** lápices a los que tiene Juan, él tendrá la misma cantidad que la maestra. ¿Cuántos lápices tiene Juan? (IGU3)

Datos

<input type="text"/>	-----
<input type="text"/>	-----
<input type="text" value="?"/>	-----

Dibujo



Cálculo

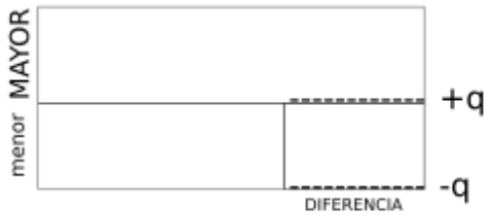
Solución:.....

Problemas de Matemáticas:

55. Guillermo tiene **25** canicas. Si Lucia le resta **10** canicas de las suyas, tendrá las mismas que Guillermo. ¿Cuántas canicas tiene Lucía? (IGU4)

Datos

Dibujo



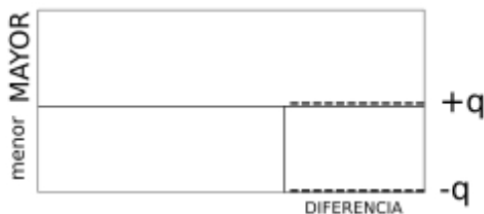
Cálculo

Solución:.....

56. Rosa tiene **13** pegatinas y Luis tiene algunas, pero si Rosa le añade **8** pegatinas, entonces Luis tendrá la misma cantidad. ¿Cuántas pegatinas tiene Luis? (IGU5)

Datos

Dibujo



Cálculo

Solución:.....