

# Multiplicación en la Granja: Desafíos Divertidos para Jóvenes Granjeros

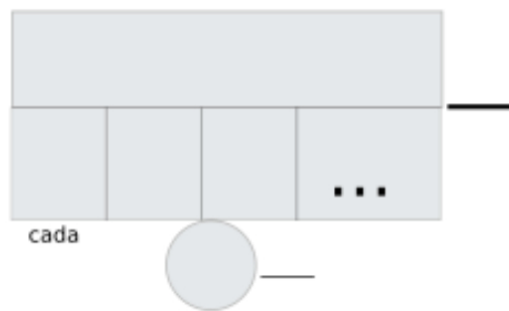
Nombre:..... Fecha:.....

La tía Emilia tiene **3** gallineros. En cada gallinero, hay **15** gallinas ponedoras. ¿Cuántos huevos puede recoger la tía Emilia en **total** si cada gallina pone un huevo al día? (IM1)

Datos

Dibujo

Cálculo



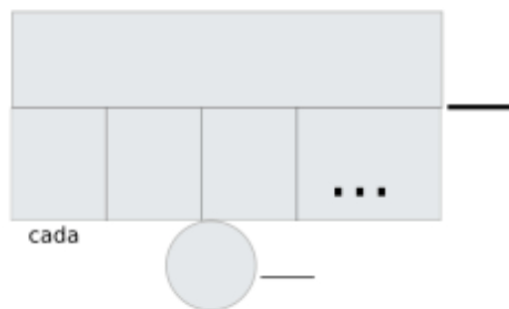

Solución:.....

Don Pedro quiere plantar manzanos en su huerto. Tiene **5** filas de manzanos y en cada fila planta **22** árboles. ¿Cuántos manzanos plantará Don Pedro en **total**? (IM1)

Datos

Dibujo

Cálculo




Solución:.....

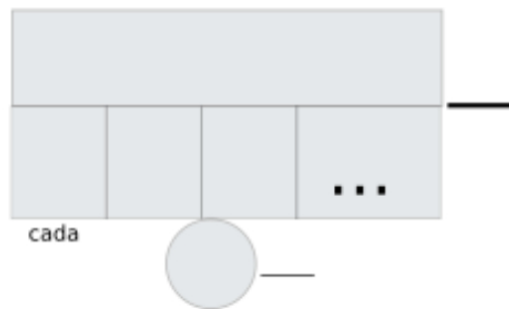
# Problemas de Matemáticas:

En la granja de Doña Rosa hay **4** establos llenos de vacas. Si en cada establo hay **35** vacas, ¿cuántas vacas tiene Doña Rosa en **total**? (IM1)

Datos

Dibujo

Cálculo



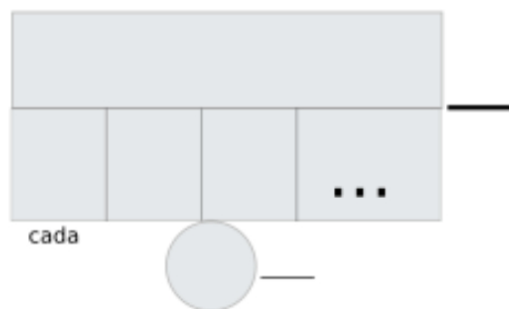

Solución:.....

El granjero Juan necesita cercar un área para sus ovejas. Decide usar **6** rollos de alambre. Si cada rollo tiene **48** metros de alambre, ¿cuántos metros de alambre tiene Juan en **total**? (IM1)

Datos

Dibujo

Cálculo




Solución:.....


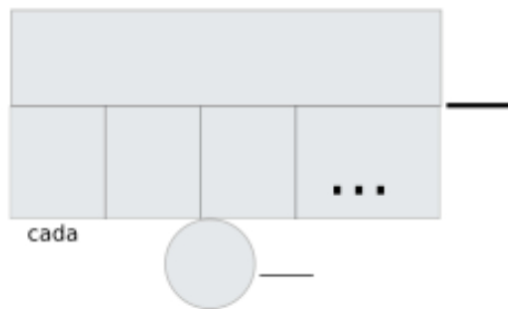
# Problemas de Matemáticas:

La señora Marta hornea galletas para vender en el mercado. Prepara **7** bandejas y en cada bandeja coloca **52** galletas. ¿Cuántas galletas hornea la señora Marta en **total**? (IM1)

Datos

Dibujo

Cálculo



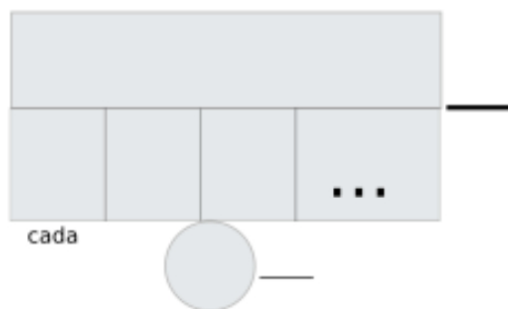
Solución:.....

Un grupo de voluntarios ayuda a cosechar tomates en la granja. Recolectan **8** cajas grandes. Si cada caja contiene **65** tomates, ¿cuántos tomates recolectan en **total** los voluntarios? (IM1)

Datos

Dibujo

Cálculo



Solución:.....

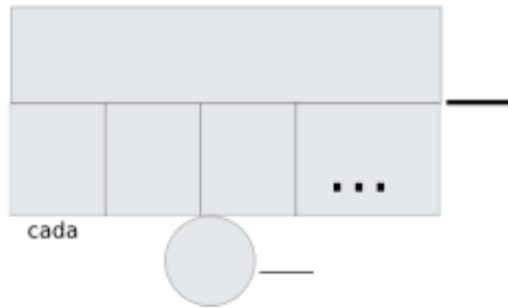
# Problemas de Matemáticas:

El granjero Juan necesita cercar un área para sus ovejas. Decide usar **6** rollos de alambre. Si cada rollo tiene **48** metros de alambre, ¿cuántos metros de alambre tiene Juan en **total**? (IM1)

Datos

Dibujo

Cálculo




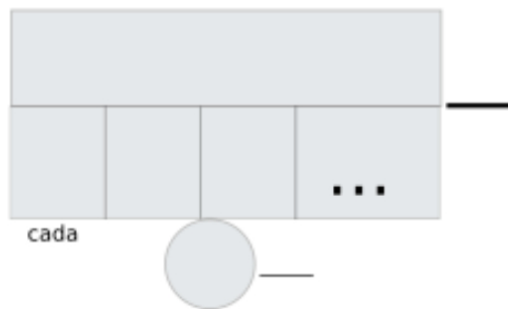
Solución:.....

El granjero Juan necesita cercar un área para sus ovejas. Decide usar **6** rollos de alambre. Si cada rollo tiene **48** metros de alambre, ¿cuántos metros de alambre tiene Juan en **total**? (IM1)

Datos

Dibujo

Cálculo



Solución:.....


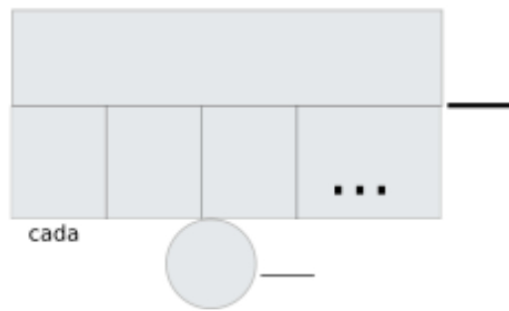
# Problemas de Matemáticas:

La señora Marta hornea galletas para vender en el mercado. Prepara 7 bandejas y en cada bandeja coloca 52 galletas. ¿Cuántas galletas hornea la señora Marta en **total**? (IM1) multiplicando 2 cifras, multiplicador 2 cifras

Datos

Dibujo

Cálculo




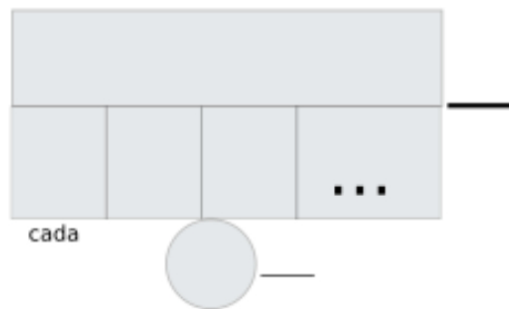
Solución:.....

La señora Marta hornea galletas para vender en el mercado. Prepara 7 bandejas y en cada bandeja coloca 52 galletas. ¿Cuántas galletas hornea la señora Marta en **total**? (IM1)

Datos

Dibujo

Cálculo



Solución:.....

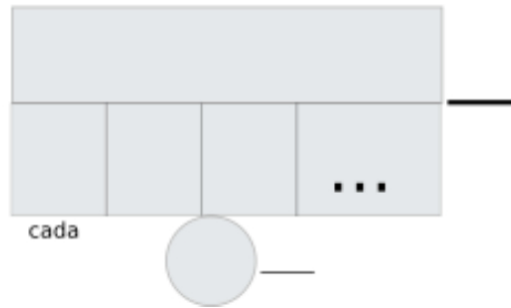
## Problemas de Matemáticas:

Un grupo de voluntarios ayuda a cosechar tomates en la granja. Recolectan **8** cajas grandes. Si cada caja contiene **65** tomates, ¿cuántos tomates recolectan en **total** los voluntarios? (IM1)

Datos

Dibujo

Cálculo




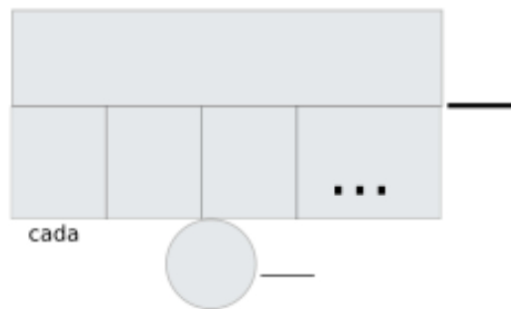
Solución:.....

Un grupo de voluntarios ayuda a cosechar tomates en la granja. Recolectan **8** cajas grandes. Si cada caja contiene **65** tomates, ¿cuántos tomates recolectan en **total** los voluntarios? (IM1)

Datos

Dibujo

Cálculo



Solución:.....