



Nombre:..... Fecha:.....

Ana tenía **25€** en su hucha. Su abuela le dio **15€** más por su cumpleaños. ¿Cuántos euros tiene Ana en **total**? (CA1)

Datos

Dibujo

Cálculo





Solución:.....

Juan tenía **68** canicas. Perdió **23** jugando con sus amigos. ¿Cuántas canicas le quedan a Juan **ahora**? (CA2)

Datos

Dibujo

Cálculo



Solución:.....



Problemas de Matemáticas:

María tenía algunos cromos. Después de que su amiga le regalara **12** cromos, ahora tiene **45**. ¿Cuántos cromos tenía María al **principio**? (CA5)

Datos

Dibujo

Cálculo




Solución:.....

Pedro tenía **82** caramelos. Se comió algunos, y ahora le quedan **56**. ¿Cuántos caramelos se comió Pedro? (CA4)

Datos

Dibujo

Cálculo



Solución:.....


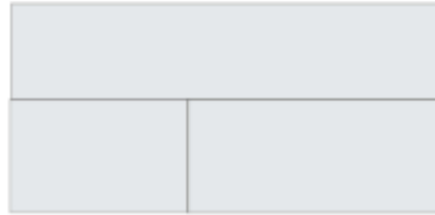
Problemas de Matemáticas:

En una cesta hay **34** manzanas y **28** plátanos. ¿Cuántas frutas hay en la cesta en **total**? (COMB1)

Datos

Dibujo

Cálculo





Solución:.....

En un jardín hay **75** flores. **42** son rosas y el resto son margaritas. ¿Cuántas margaritas hay en el jardín? (COMB2)

Datos

Dibujo

Cálculo



Solución:.....