

Nombre:..... Fecha:.....

Un panadero hornea **25** barras de pan **cada** día. ¿Cuántas barras de pan hornea en **5** días? (IM1)

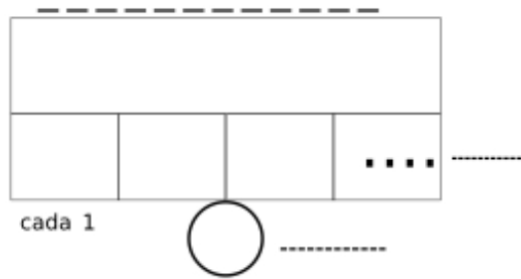
Datos

.....

.....

?

Dibujo



Cálculo

Solución:.....

En una granja, hay **8** gallinas y **cada** gallina pone **6** huevos a la semana. ¿Cuántos huevos se recogen en **total** en una semana? (IM1)

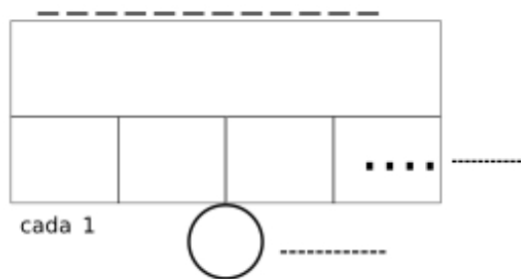
Datos

.....

.....

?

Dibujo



Cálculo

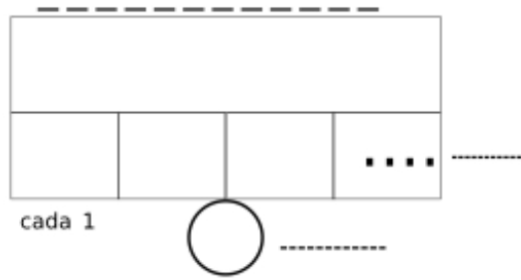
Solución:.....

Problemas de Matemáticas:

Un jardinero planta **12** filas de flores, con **9** flores en **cada** fila.
¿Cuántas flores planta en **total**? (IM1)

Datos

Dibujo



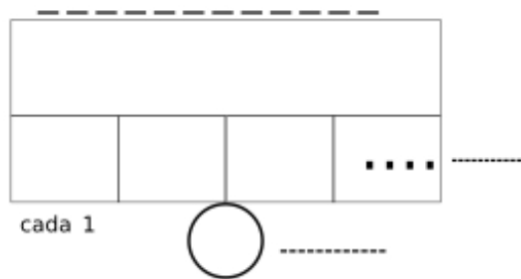
Cálculo

Solución:.....

Un paquete de galletas cuesta **3€**. Si compras **7** paquetes, ¿cuánto dinero gastarás en **total**? (IM1)

Datos

Dibujo



Cálculo

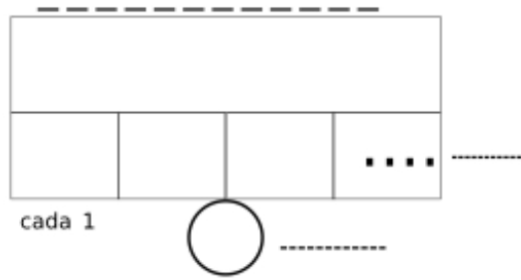
Solución:.....

Problemas de Matemáticas:

Un camión transporta **15** cajas, y **cada** caja pesa **4 kg**. ¿Cuál es el peso **total** de la carga del camión? (IM1)

Datos

Dibujo



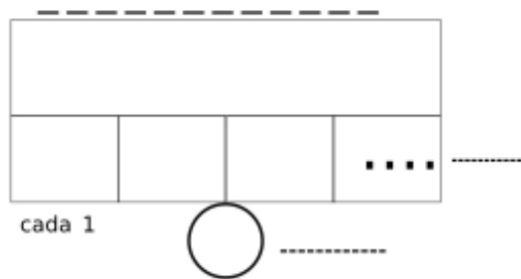
Cálculo

Solución:.....

Un tren viaja a **80 km/h**. ¿Qué distancia recorrerá en **3** horas si mantiene la misma velocidad? (IM1)

Datos

Dibujo



Cálculo

Solución:.....