

# Problemas de Matemáticas



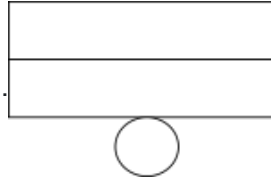
Nombre:..... Fecha:.....

Representa  $\frac{2}{7}$  de 14 con el modelo de barras.

Datos

.

Estrategia



Cálculo

.

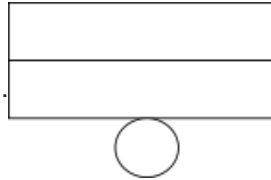
Solución:

Calcula  $\frac{1}{4}$  de 12 con el modelo de barras.

Datos

.

Estrategia



Cálculo

.

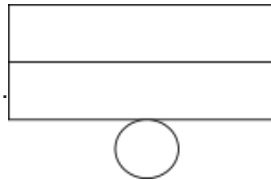
Solución:

Calcula  $\frac{3}{6}$  de 18 con el modelo de barras.

Datos

.

Estrategia



Cálculo

.

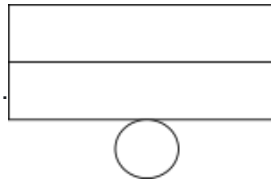
Solución:

En una caja hay 20 bolas,  $\frac{3}{4}$  son de color rojo. ¿Cuántas bolas hay de color rojo?

Datos

.

Estrategia



Cálculo

.

Solución: